


## 17. Wie sind die Spielsachen?

Was ist richtig? Schreib die Zahlen unten auf.



a) Das Schiff ist



neu.

10

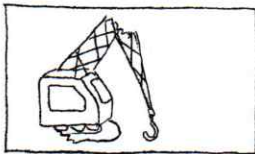
alt.

3

schön.

8

c) Der Kran ist



neu.

6

ganz.

14

kaputt.

4

e) Die Puppe ist



neu.

2


alt.

9

kaputt.

15

b) Der Ball ist



sauber.

5


schmutzig.

1

kaputt.

13

d) Das Spiel ist



kaputt.

11


ganz.

6

schmutzig.

2

f) Das Auto ist



kaputt.

12

sauber.

4

schmutzig.

2

$$\frac{\quad}{\text{a)}} + \frac{\quad}{\text{b)}} + \frac{\quad}{\text{c)}} + \frac{\quad}{\text{d)}} + \frac{\quad}{\text{e)}} + \frac{\quad}{\text{f)}} = 20$$